

目次

テストの特徴と実施方法	4
第7回テスト	
問題	5
解答	7
判定表	9
第8回テスト	
問題	10
解答	12
判定表	14
第9回テスト	
問題	15
解答	18
判定表	20
第7回問題	21
第8回問題	33
第9回問題	44

第7回テスト 問題(1)

用意するもの

クレヨン、鉛筆

言語

7-1

お話を聞いて問題に答えましょう。(プリントを見ながら)

- ① クマさんが橋を2本渡った後、トンネルを1つ通り抜けて左へ曲がり、次に右へ曲がってウサギさんのお家へ遊びに行きました。

問1 今、クマさんが通った道に桃色の線を引きましょう。

問2 ウサギさんのお家に桃色の○をつけましょう。

- ② キツネさんは、花壇を通り過ぎた後左へ曲がり、タヌキさんのお家の前を通ってトンネルを通り抜け、道なりに進んでリスさんのお家へ遊びに行きました。

問3 今、キツネさんが通った道に黄緑色の線を引きましょう。

問4 タヌキさんのお家に黄緑色の○をつけましょう。

問5 リスさんのお家に黄緑色の△をつけましょう。

クレヨン
使用

制限時間
0分30秒

制限時間
即答

制限時間
0分30秒

制限時間
即答

制限時間
即答

7-2

「パン」と「本」は両方とも最後に「ん」がつきますね。

このように、名前の同じところに「ん」がつくものを、上と下から見つけて鉛筆で線を結びましょう。線が結べないものもあるので、よく考えてください。

鉛筆
使用

制限時間
1分00秒

数量

7-3

- ① (左) 左の重さ比べを見て、1番重い物に○、1番軽い物に×を、右の絵につけましょう。

(右) 上の重さ比べを見て考えましょう。下の4つのうち、上から重い順に並んでいるものを選んで、上の□に○を書きましょう。(解答の記入する場所を確認する)

クレヨン
使用

制限時間
1分00秒

制限時間
0分45秒

7-4

- ② 上の絵を見てください。パンダ1匹とネズミ2匹が釣り合います。ネズミ1匹はリンゴ2個と釣り合います。

(1) 星(☆)のところを見てください。左にパンダとネズミを1匹ずつのせたら、右側にリンゴをいくつのせれば釣り合いますか。その数だけ鉛筆で○を書きましょう。

(2) ハート(♡)のところを見てください。左にパンダを2匹のせたら、右側にリンゴをいくつのせれば釣り合いますか。その数だけ鉛筆で○を書きましょう。

(3) お花(♣)のところを見てください。絵のようにのせた時、重くなる方の下の□に○を鉛筆で書きましょう。

(4) 月(♁)のところを見てください。今の問題と同じようにやってみましょう

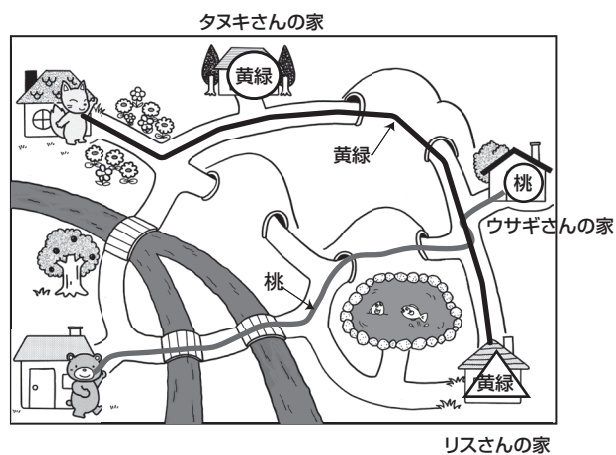
鉛筆
使用

制限時間
各 20秒

言語

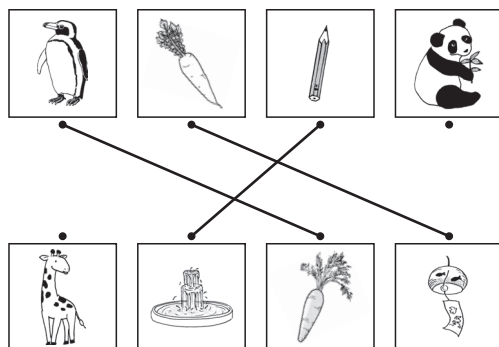
7-1

- 配点
問1 2点
問2 1点
問3 2点
問4 1点
問5 1点



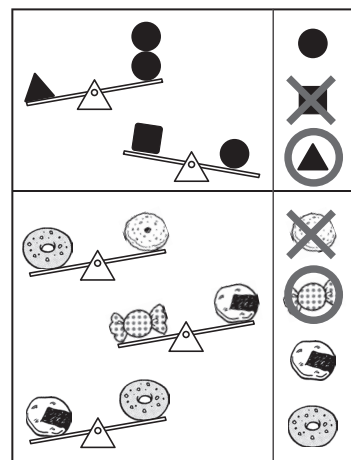
7-2

各1点×3

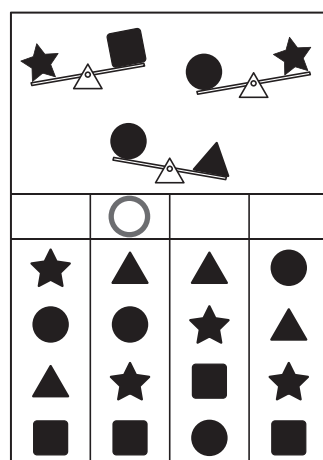


数量

7-3



配点 各1点×4




配点 2点

数量

7-4

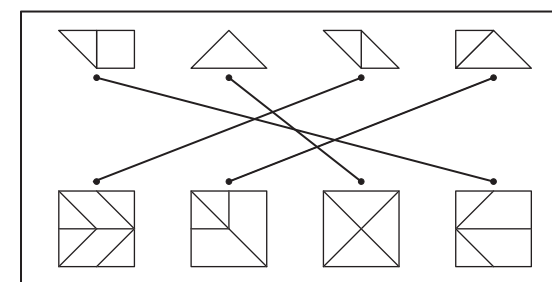
各1点×4



推理

7-5

各1点×4



7-6

各2点×3

