


小学校入試対策問題集

パーフェクト

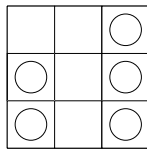
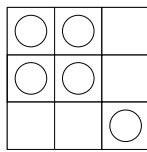
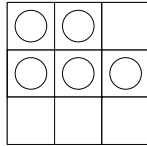
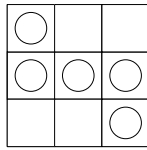
キリトリ式



▶問題 03

形の書いてあるガラスの板を、矢印の方へ太線のところでパタンと折って重ねたとき、○はどのように見えますか。左のマス目に○を書きましょう。

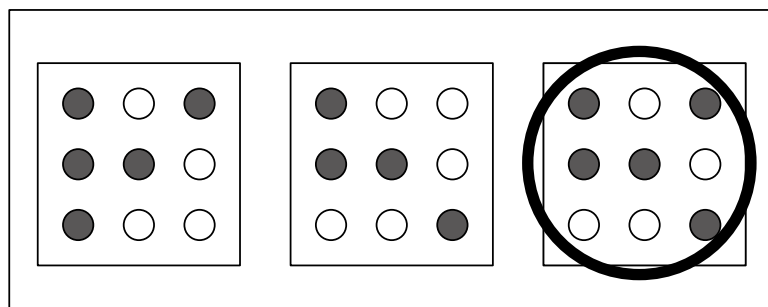
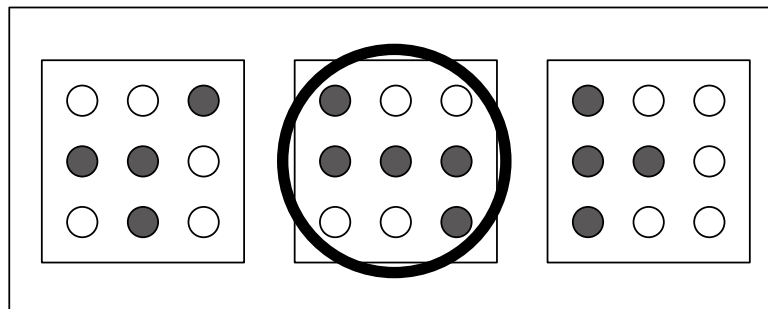
解答



▶問題 04

形の書いてあるガラスの板を、矢印の方へ太線のところでパタンと折って重ねたとき、●はどのように見えますか。右の中から選んで○をつけましょう。

解答




▶問題 35

左上の形と同じものに○をつけましょう。

解答

8個



▶問題 36

左側のでんびんが釣り合っています。右の3つの中から正しい絵を選んで、○をつけましょう。

解答

